

GUÍA N°1: “REPRESENTAR Y ESCRIBIR NÚMEROS HASTA EL 10.000”.
4° AÑO DE ENSEÑANZA BÁSICA

Nombre: _____

Curso: _____ Fecha: _____

INSTRUCCIONES: Lee cuidadosamente antes de responder.

1. Escribe la cantidad de palitos que se presenta a continuación.




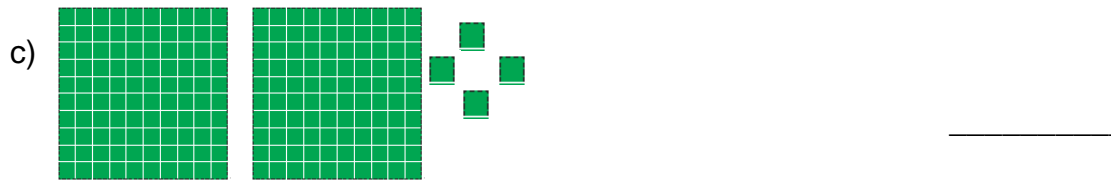
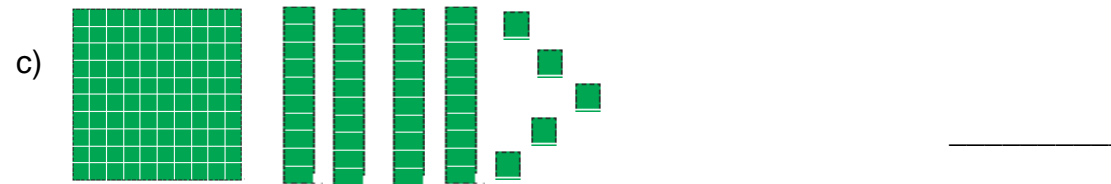

Hay _____ palitos

2. Encierra con una cuerda 275 palitos



3. Escribe las cantidades representadas a continuación.





4. Escribe con palabras los siguientes números:

a) 613: _____

b) 278: _____

c) 340: _____

d) 902: _____

e) 709: _____

f) 301: _____

g) 1.003: _____

h) 3.040: _____

i) 900: _____

j) 999: _____